



Birey ve Toplum - 1

1. Meryem haftasonu ailesiyle göl kenarına pikniğe giderken yol kenarlarına bırakılan çöplerin kokusunu aldı. Göle yaklaştıkça koku artıyordu ve çok rahatsız edici bir hal almıştı. Bu durum karşısında çok üzüldü. Aklına sosyal bilgiler dersinde öğretmenin anlattıkları geldi. Belediye-ye bu konu ile ilgili bir dilekçe yazdı.

Buna göre sosyal bilgiler dersinin Meryem'e katkısı aşağıdakilerden hangisidir?

- A) Türk tarihini öğrenmeye başlamıştır.
B) Yardımlaşma duygusu gelişmiştir.
C) İnsanlara karşı sevgi ve saygısı artmıştır.
D) Toplumun sorunlarına karşı duyarlı hale gelmiştir.

2. Ortak bir amaç için bir araya gelen, en az iki veya daha fazla kişiden oluşan, aralarında ilişki ve işbirliği bulunan topluluğa "grup" denir.

Buna göre aşağıdakilerden hangisi grup değildir?

- A) Halk oyunları ekibi
B) Konserdeki seyirciler
C) Aile bireyleri
D) Sınıftaki öğrenciler

3. I. Savaşlar,
II. Doğal afetler,
III. Yoksulluk

Yukarıdaki durumlardan hangileri çocukların barınma, beslenme ve eğitim gibi haklarını kullanmalarına engel olabilir?

- A) Yalnız I.
B) I ve II.
C) II ve III.
D) I, II ve III.

4. Buse, okuluna yürüyerek gitmektedir. Fakat trafiğin yoğun olduğu ve yaya geçidinin olmadığı caddede karşıdan karşıya geçerken sıkıntı yaşamaktadır. Bu durum aynı zamanda sürücülerde sıkıntı oluşturmaktadır.

Buna göre aşağıdakilerden hangisi söylenebilir?

- A) Olayların nedeni önemli değildir.
B) Aynı olay birden fazla kişiyi etkileyebilir.
C) Olayların sadece sonuçlarına bakılmalıdır.
D) Her olayın sonucu aynıdır.

5. Sosyal bilgiler dersi, demokratik değerleri benimseyen, içinde yaşadığı topluma uyum sağlayan ve toplumun sorunlarına duyarlı, hak ve sorumluluklarını bilen bireyler yetiştirmeyi amaçlar.

Buna göre aşağıdakilerden hangisi sosyal bilgiler dersinin amaçlarından değildir?

- A) Okuma alışkanlığı kazandırmak
B) Çevresine karşı hassas olmak
C) Vatandaşlık görevlerini öğrenmek
D) Beraber yaşama duygusunu geliştirmek

6. **Aşağıdaki seçeneklerin hangisinde çocuk haklarıyla ilgili yanlış bilgi verilmiştir?**

- A) Her çocuk temel yaşama hakkına sahiptir.
B) Çocuklar hiçbir şekilde zorla çalıştırılmaz.
C) On beş yaşına kadar her insan çocuk sayılır.
D) Temiz bir çevrede yaşamını sürdürmek her çocuğun hakkıdır.

Birey ve Toplum - 1


7. Aşağıdakilerden hangisi sosyal bilgiler dersinin kişinin kendi gelişimine katkılarında biri değildir?

- A) Toplumsal sorunların farkına varmak
- B) Toplumun değerlerine saygılı olmak
- C) Farklılıkları hoşgörü ile karşılamak
- D) Başkalarının haklarını ihlal etmek

8. I. Mahallede maç yapan çocuklar
II. Otobüs durağında bekleyen kişiler
III. İzci kulübüne katılan öğrenciler
IV. Sokakta gezen insanlar

Yukarıda verilenlerden hangileri gruptur?

- A) I ve II.
- B) I ve III.
- C) II ve IV.
- D) III ve IV.

9.  Günlük yaşamda çeşitli gruplar içerisinde bulunuyorum. Bulduğum grupla ilgili üstlendiğim bir rolüm var. Bu rol, gruptaki diğer kişilerin benden beklediği davranışlardır. Bu davranışları gösterirsem rolümü yerine getirmiş olurum.
Ahmet

Buna göre Ahmet'in aile içerisindeki rolü aşağıdakilerden hangisi olabilir?

- A) İzci
- B) Kaleci
- C) Evlat
- D) Öğrenci

10. Aşağıdakilerden hangisi grupla birlikte yaptığımız bir davranış değildir?

- A) Halk oyunları oynamak
- B) Pazar alışverişi yapmak
- C) Koroda şarkı söylemek
- D) Futbol oynamak

11. I. Ders çalışmak
II. Kamp kurallarına uymak
III. Güvenliği sağlamak

Yukarıda verilen davranışlar sırası ile hangi rollere aittir?

- | I | II | III |
|------------|----------|----------|
| A) Müdür | Öğretmen | Öğrenci |
| B) Öğrenci | Polis | İzci |
| C) İzci | Müdür | Öğretmen |
| D) Öğrenci | İzci | Polis |

12.



Trafik kazası ile ilgili yapılan yorumlara bakıldığında aşağıdaki yargılardan hangisine ulaşılabilir?

- A) Olayların birden fazla nedeni olabilir.
- B) Bir olayın birden çok sonucu olabilir.
- C) Her birey olaylardan aynı etkilenir.
- D) Olaylar birbirine benzerler.



Birey ve Toplum - 2

1. Elif okula başlayacağı için erkenden kalktı. Kahvaltısını yaptı ve annesi ile okulun yolunu tuttu. Okuldaki ilk gününde okulunu ve arkadaşlarını çok sevdi.

Elif'in okuldaki rolü aşağıdakilerden hangisidir?

- A) Öğrenci
B) Oyuncu
C) Çocuk
D) Öğretmen

2. Sorumluluklarını yerine getiren bir bireyin;

- I. daha az sorunla karşılaşması,
II. sık sık beklenmedik durumlar yaşaması,
III. başarılı ve mutlu olması

durumlarından hangileri ile karşılaşması beklenir?

- A) Yalnız II.
B) I ve II.
C) I ve III.
D) II ve III.

- 3.





Mehmet



Bir bölgede büyük bir fabrikanın açılması, farklı iş kollarının gelişmesini sağlar, bölgedeki eğitimi ve aynı zamanda insanların yaşamını etkiler.

Mehmet'in bu sözleri aşağıdakilerden hangisi ile daha çok bağlantılıdır?

- A) Olaylar toplum içinde hazır bulunur.
B) Bazı olaylar, aynı olaydan etkilenir.
C) Olaylar bir arada yaşamının sonucudur.
D) Bir olayın, birden çok sonucu olabilir.

4. Aşağıdaki öğrencilerden hangisi sosyal bilgiler dersinin kendi gelişimlerine katkısı ile ilgili yanlış bir örnek vermiştir?

- A)  Farklılıklara saygı gösteriyorum. B)  Yaşadığım çevreyi tanıyorum.

- C)  Yazım kurallarını biliyorum. D)  Kültürel mirası tanıyorum.

5. Aşağıdakilerden hangisi 6.sınıftaki Ömer'in okuldaki sorumluluklarından biri olamaz?

- A) Derse zamanında girmek
B) Kırılan tahtayı onarmak
C) Çantasını hazırlamak
D) Boşa akan musluğu kapatmak

6. I. Oy kullanmak,
II. Vergi vermek,
III. Odamızı düzenli tutmak,
IV. Askere gitmek

Yukarıda verilenlerden hangileri ülkemize karşı sorumluluklarımız arasında gösterilebilir?

- A) I ve II.
B) II ve III.
C) I, II ve IV.
D) II, III ve IV.

Birey ve Toplum - 2

7. Suriye’de yaşanan olaylardan dolayı Meryem’in mahallesine bu bölgeden göç hareketi olmuştur.

Meryem’in mahallesinde bu göçlerden sonra;

- I. konut ihtiyacının artması,
- II. nüfusun artması,
- III. işsizlik oranının düşmesi

gelişmelerinden hangilerinin yaşanması beklenir?

- A) Yalnız II.
- B) I ve II.
- C) I ve III.
- D) II ve III.

8. Sosyal bilgiler dersi insana saygılı olmanın toplumsal ilişkilerdeki önemini fark ettirir. İnsan hakları, ulusal egemenlik ve demokrasi gibi kavramlarla tanıştırır. Yaşamımızı demokratik kurallar çerçevesinde düzenlemeyi öğretir.

Buna göre aşağıdakilerden hangisi sosyal bilgiler dersi ile kazandırılmak istenen bir davranış değildir?

- A) Yasalara uyma
- B) Çıkarıcı olma
- C) Haklarını bilme
- D) Hoşgörülü olma

9. Aşağıdakilerden hangisi olayların çok boyutluluğu ile ilgili yanlış bir bilgidir?

- A) Bir olayın bir tek nedeni ve bir tek sonucu vardır.
- B) Bir olayın sonucu başka bir olayın sebebi olabilir.
- C) Bir olaydan birden çok kişi etkilenebilir.
- D) Aynı olay birçok insanı farklı biçimde etkileyebilir.

10. Aşağıdakilerden hangisi sosyal bilgiler dersinin kişinin gelişimine sağladığı faydalardan biri değildir?

- A) Dünyadaki farklı kültürleri tanımak
- B) Sorumluluk almaktan kaçınmak
- C) Çevremize karşı daha duyarlı olmak
- D) Hak ve sorumluluklarımızı bilmek

11.



Geçen hafta hasta olduğum için okula gidemedim. Babam beni hastaneye götürdü. Doktor benimle ilgilendi ve ilaç verdi. İlaçlarımı almak için eczaneye gittik. Doktorun tavsiyelerine uyduğum için kısa sürede iyileştim.

Buna göre Zeynep hangi hakkını kullanmıştır?

- A) Eğitime erişim hakkı
- B) Yeterli beslenme hakkı
- C) İfade özgürlüğü hakkı
- D) Sağlık hizmetlerine erişim hakkı

12. Aşağıdaki sorumluluklardan hangisi çocuklara verilirse Birleşmiş Milletler Çocuk Hakları Sözleşmesi ihlal edilmiş olmaz?

- A) Satranç kulübüne katılması
- B) İşçi olarak çalıştırılması
- C) Sokakta mendil satması
- D) Askere götürülmesi





Kültür ve Miras - 1

1. Anadolu'nun ilk uygarlıklarından biri olan Hititler, Sümerlerden öğrendikleri çivi yazısını ve Mısırlılardan öğrendikleri hiyeroglif yazısını kullanmışlardır.

Metne göre aşağıdakilerden hangisine ulaşılabilir?

- A) Çivi yazısını kullanan ilk uygarlık Hititlerdir.
B) Toplumlar birbirlerinden etkilenmişlerdir.
C) İlk merkezi krallıklar Anadolu'da kurulmuştur.
D) Dünyanın ilk kütüphanesini Sümerler kurmuşlardır.

2. Ülkemizde kutlanan bayramlarla ilgili aşağıda verilen bilgilerden hangisi yanlıştır?

- A) Nevruz bayramı baharı müjdelere.
B) Kurban bayramı millî bir bayramdır.
C) Hıdırellez bayramı mevsimlik bayramdır.
D) Cumhuriyet bayramı millî bir bayramdır.

3. Aşağıdakilerden hangisi milletçe bir arada yaşamamızda önemli bir yere sahip olan, birlik ve beraberliğimizi güçlendiren kültürel öğelerimizden biri değildir?

- A) Kurban Bayramı
B) Kına geceleri
C) Bahar Şenlikleri
D) Şükran Günü

4. Kültürel özellikleri oluşturan unsurdan biri de yemeklerdir. Ülkemizde zeytinin bolca yetiştiği Ege ve Akdeniz kıyılarında sebze yemekleri genellikle zeytinyağı kullanılarak yapılır. Trabzon ve Rize'de bol miktarda mısır yetiştirildiğinden ekmek yapımında genellikle mısır unu kullanılmaktadır.

Metne göre kültürel farklılığa neden olan unsur aşağıdakilerden hangisidir?

- A) Ekonomik faaliyetler
B) Dini inanışlar
C) Eğitim seviyesi
D) Gelir düzeyleri

5. Ülke olarak tarihî eserler yönünden oldukça zengin bir mirasa sahibiz.

Aşağıdakilerden hangisi sahip olduğumuz tarihî eserlerden değildir?

- A) Topkapı Sarayı
B) Selimiye Camii
C) Mevlana Müzesi
D) Damlatay Mağarası

6. Anadolu'nun birçok medeniyetin doğmasına ve yaşamasına beşiklik ettiği bilinmektedir.

Anadolu'nun ilk çağlardan beri yerleşim yeri olarak seçilmesinin nedenleri arasında aşağıdakilerden hangisi yoktur?

- A) Toprağın verimli olması
B) Su kaynaklarının bulunması
C) Doğal kaynaklarca zengin olması
D) Teknolojik çalışmalara uygun olması

Kültür ve Miras - 1

7. İlk Çağda;

- I. toprağı işleyerek tarımla uğraşmaları,
- II. ateşi kullanmış olmaları,
- III. mağara duvarlarına resimler çizmeleri,
- IV. toplayıcılıkla beraber avcılık yapmaları

faaliyetlerinden hangileri insanların üretim yaptıklarını gösterir?

- A) Yalnız I.
- B) Yalnız II.
- C) I ve III.
- D) III ve IV.

8. Aşağıdakilerden hangisi dinî bayramların özelliklerinden biri değildir?

- A) İnsanlar bir arada halk oyunları oynar.
- B) Aileler ve akrabalar bir araya gelir.
- C) Birbirine dargın insanlar barışıır.
- D) Toplumda birlik ve beraberlik oluşur.

9. Zeybek, halay, horon karşılama vb. oyunlar hangi kültürel unsur içerisinde yer almaktadır?

- A) Düşünler
- B) Halk oyunları
- C) El sanatları
- D) Yemekler

10. Geçmiş uygarlıklardan kalan kalıntı ve eserlere tarihî eser denir.

Buna göre aşağıdakilerden hangisi tarihi eserlere örnek olarak gösterilebilir?

- A) Orman
- B) Mağara
- C) Kale
- D) Şelale

11. Merhaba, benim adım Paduhepa. Hattuşa'da yaşıyorum. İki katlı, dört odalı ve avlulu olan evimizin odalarının birinde ocağımız bile var. Komşu ülkeler bize "Bin Tanrı İli" diyor. Kutlamalarımızda tanrılarımıza kurbanlar keseriz. Kuraklıktan etkilenmemek için tahıl deposu ve baraj yaptırıldı. Yaşadığımız önemli olayları yazdığımız Anal adını verdiğimiz yıllıklar da hazırlıyoruz.

Buna göre Hititler ile ilgili aşağıdaki bilgilerden hangisine ulaşamaz?

- A) Tek tanrılı dine inanmışlardır.
- B) Tarım ile uğraşmışlar.
- C) Yazıyı kullanmışlardır.
- D) Yerleşik bir yaşam sürmüşlerdir.

12. Mardin'de gerçekleştirilen bir arkeolojik çalışma sırasında günümüzden binlerce yıl önce yapılmış bir oyuncak araba bulundu. Aynı çalışma sırasında günümüzden 2800 yıl önce hazırlanmış bir tapu belgesi de bulunmuş. Bir meyve bahçesine ait olan bu tapu belgesi, bir kil tabletin üzerine Asur yazısıyla yazılmış. Bu belgenin şimdiye kadar bulunmuş en eski tapu belgesi olduğu belirtiliyor.

Buna göre Asurlular ile ilgili aşağıdaki yargılardan hangisine ulaşamaz?

- A) Yazıyı kullanmışlardır.
- B) Toplumda sınıf farklılıkları görülür.
- C) Yerleşik bir yaşam sürmüşlerdir.
- D) Mülkiyet hakkı vardır.



Kültür ve Miras - 2

1. Tarihçiler, geçmişten günümüze kadar olan zamanı öğrenilmesini kolaylaştırmak için çağlara (devirlere) ayırmışlardır. Yazının kullanılmasından önceki dönemleri “tarih öncesi devirler”, sonraki dönemleri ise “tarihi devirler” olarak adlandırmışlardır.

Buna göre aşağıdakilerden hangisi “tarihi devirlere” aittir?

- A) Kemikten yapılmış eşyalar
B) Mağaradaki resimler
C) Çivi yazılı tablet
D) Heykeller

2. Kültürel özelliklerimizi oluşturan öğelerden biri de el sanatlarıdır.

Aşağıdakilerden hangisi kültürel özelliklerimizden olan el sanatlarına örnek gösterilemez?

- A) Halk oyunları
B) Bakırcılık
C) Çinicilik
D) Ahşap işçiliği

3. Türkülerimiz halkımızın zengin kültürünü yansıtan, belirli bir ezgiyle söylenen öğelerdir. Her birinin hikâyesi farklıdır. Toplum ve insan hayatında derin izler bırakan kahramanlık, savaş, ayrılık, doğal afet, yas, düğün, aşk gibi olaylar türkülerimize konu edilir. Başlangıçta sahibi bellidir. Zamanla dilden dile dolaşır, halka mal olur. Bu kültürel değerlerimizi yaşatanların başında aşıklar gelir.

Buna göre aşağıdakilerden hangisi türkülerimizin özelliklerinden değildir?

- A) Halka mal olmuş kültürel değerlerimizdendir.
B) Bütün türkülerin konusu aynıdır.
C) Aşıklar sayesinde günümüze kadar gelmiştir.
D) Her türkünün kendine has hikâyesi vardır.

4. Doğada insan eli değmeden oluşan, gezilip görülebilecek eşsiz güzellikteki yerler ve unsurlar doğal varlık olarak nitelendirilir.

Buna göre aşağıdakilerden hangisi doğal varlıklara örnek olarak gösterilebilir?



Boraboy Gölü, Amasya



Galata Kulesi, İstanbul



Akdamar Kilisesi, Van



Para

5. Toprağın pişirildikten sonra şekil verilmiş hâlidir. Aynı zamanda fayans, porselen tabak, seramik gibi eşyaların süslenmesinde kullanılır. Ülkemizde Kütahya ve İznik'te yaygın olarak yapılmaktadır.

Yukarıda özellikleri anlatılan el sanatı aşağıdakilerden hangisidir?

- A) Çinicilik
B) Çömlekçilik
C) Bakırcılık
D) Sepetçilik ve Hasırcılık

6. El ele tutuşarak kemençe eşliğinde oynadığımız bir oyundur. Baştan ayağa dalgalanma figürleriyle fırtınalı Karadeniz'in zorlu yaşamını yansıtır.

Yukarıda özellikleri verilen oyun aşağıdakilerden hangisidir?

- A) Hora
B) Çayda çıra
C) Horon
D) Kaşık

Kültür ve Miras - 2

7. Kutlama zamanları doğa ve iklim koşullarına bağlı olarak farklılık gösteren, oyunların oynandığı, türkülerin söylendiği, hazırlanan yiyeceklerin hep birlikte yenildiği, en güzel örneklerinin Hıdırellez ve Nevruz Bayramı olduğu bayramlara genel olarak ne ad verilir?

- A) Dinî bayramlar B) Millî bayramlar
C) Mevsimlik bayramlar D) Resmî bayramlar

8. Geçmişteki uygarlıkların izlerini taşıyan yerlere tarihî mekânlar denir.

Buna göre;

- I. Silifke Kalesi – Mersin
II. Selimiye Camii – Edirne
III. Abant Gölü – Bolu

hangileri tarihî mekândır?

- A) I ve II. B) I ve III.
C) II ve III. D) I, II ve III.

9.

Geçmiş Dönem

Bayramlarda aile büyüklerine ve akrabalara gidip bayramlaşırdı.


Günümüz

Bayramlaşmalar artık telefonda konuşarak ya da kısa mesaj yollayarak yapılmaktadır.

Aşağıdakilerden hangisi bayram kutlamalarındaki bu değişimin sebepleri arasında gösterilebilir?

- A) Boş vakitlerin artması
B) Ulaşım araçlarının gelişmesi
C) İletişim araçlarının yaygınlaşması
D) İnsanlar arasındaki birlik ve beraberliğin güçlenmesi

10. Aşağıdaki görsellerden hangisi tarihî – kültürel bir öge değildir?



11. Günlük hayatımızda birçok kültürel unsur çok uzun süredir yaşamaktadır. Geçmişte düğünler evlerin önünde 2-3 gün süren kır düğünü şeklinde yapılırdı. Günümüzde ise düğün salonlarında yaklaşık 3-4 saat süren düğünler yapılmaktadır.

Metne göre aşağıdakilerden hangisine ulaşılabilir?

- A) Düğünlerde müzik eşliğinde türküler söylenir.
B) Kültürel öğeler zaman içinde değişebilmektedir.
C) Düğünler ülkenin her yerinde aynı şekilde yapılır.
D) Her toplumun kendine özgü kültürü bulunmaktadır.

12. Ergenekon Destanı'na göre; Türkler zamanla Ergenekon Dağına sığmaz olurlar, atalarının eski yurtlarını geri almak için çeşitli yollar aramaya başlarlar. Nihayet dağda zayıf bir nokta tespit ederler, o noktayı eriterek çıkış yolu bulurlar. Yeni bir hayat, yeni bir başlangıç demek olan bu tarihî gün 21 Mart gününe rastlar. İşte bugün Türk topluluklarında bayram olarak kutlanır ve baharın başlangıcı olarak adlandırılır.

Buna göre yukarıda verilen parçada anlatılan bayram aşağıdakilerden hangisidir?

- A) Ramazan Bayramı B) Hıdırellez Bayramı
C) Nevruz Bayramı D) Zafer Bayramı





İnsanlar, Yerler ve Çevreler - 1

1. Fiziki haritalarda yükselti ve derinlik basamaklarını ifade etmek için farklı renkler kullanılır.

Mavi renk: Bir yerin deniz seviyesine göre derinliğini gösterir. Deniz seviyesinden aşağılara inildikçe mavi renk koyulaşır.

Buna göre aşağıdakilerden hangisi mavi renk ile gösterilir?

- A) Çukurova
- B) Marmara Denizi
- C) Ağrı Dağı
- D) Ihlara Vadisi

2. Aşağıdakilerden hangisi yeryüzü şekillerinin yapısını, dağılışını ve yükseltilerini gösteren haritalardır?

- A) Siyasi haritalar
- B) Fiziki haritalar
- C) Özel haritalar
- D) Beşerî ve Ekonomik haritalar

3. • Karalar üzerinde bulunan çukurlara suların birikmesiyle oluşan yer şeklidir.
• Yeryüzünün, çevresine göre yüksek olan ve oldukça geniş bir alana yayılan bölümleridir.
• Çevresine göre alçakta kalan geniş düzlüklerdir.

Yukarıda verilen tanımlar ile aşağıdaki seçenekler eşleştirildiğinde hangi seçenek dışarıda kalır?

- A) Ova
- B) Göl
- C) Vadi
- D) Dağ

4. Türkiye fiziki haritası incelendiğinde doğusunda kahverengi tonunun daha fazla kullanıldığı görülür.

Bu durumun nedeni aşağıdakilerden hangisidir?

- A) Ova ve yaylaların çok olması
- B) Yükseltinin fazla olması
- C) İklimin soğuk olması
- D) Nüfusun seyrek olması

5. Aşağıdakilerden hangisi insanların yoğun olarak yaşadığı yerler arasında gösterilemez?

- A) Ova
- B) Plato
- C) Nehir kıyıları
- D) Dağların dik yamaçları

6. • Yazlar sıcak ve kurak geçer.
• Kış ayları ılık ve yağışlıdır.
• Bitki örtüsü maki olarak adlandırılan çalılıklardır.

Buna göre yukarıda özellikleri verilen iklim tipi aşağıdakilerden hangisidir?

- A) Karasal İklim
- B) Karadeniz İklimi
- C) Bozkır İklimi
- D) Akdeniz İklimi

İnsanlar, Yerler ve Çevreler - 1

7. Bitki örtüsü genellikle ormandır. Bu nedenle özellikle kırsal kesimdeki evlerin yapı malzemesi ahşaptır.

Buna göre ahşap yapıların aşağıdaki iklim türlerinden hangisinde daha yaygın olması beklenir?

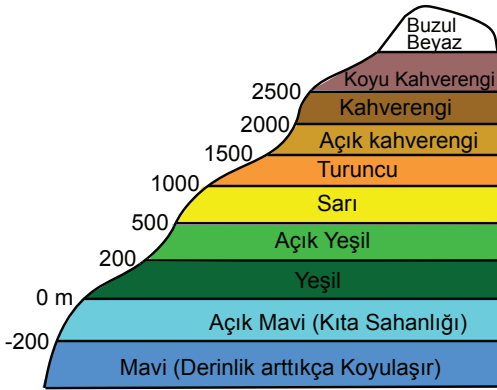
- A) Step İklimi
B) Akdeniz İklimi
C) Karadeniz İklimi
D) Karasal İklim

8. Turunçgiller kış aylarında sıcaklığın çok düştüğü yerlerde yetişemez. Kışların ılık geçtiği yerlerde yetiştirilir.

Bu durum üzerinde aşağıdakilerden hangisinin etkili olduğu söylenir?

- A) İklimin
B) Bitki örtüsünün
C) Yer şekillerinin
D) Yüz ölçümünün

9. Fiziki haritalarda yer şekillerini daha belirgin gösterebilmek için yükselti basamakları aşağıdaki renklerle ifade edilir.



Buna göre aşağıdakilerden hangisi söylenemez?

- A) Denizler mavi renk ile gösterilir.
B) Yükselti arttıkça kahverenginin tonu koyulaşır.
C) Ovaların tümü yeşil renkle gösterilir.
D) Beyaz renkler kalıcı karları gösterir.

10. Olumsuz hava şartları aşağıda verilen ekonomik faaliyetlerden hangisi üzerinde en az etkilidir?



Tarım



Hayvancılık



Madencilik



Turizm

11. Aşağıdakilerden hangisi yerleşmeye elverişli yerlerden biri değildir?

- A) Verimli topraklar
B) Turizmin geliştiği yerler
C) İklimin ılıman olduğu yerler
D) Yükseltinin fazla olduğu yerler

12. Türkiye'nin fiziki haritası incelendiğinde Konya Ovası ve Antalya Ovası farklı renkte gösterilmektedir.

Bu durum iki ovanın hangi bakımdan farklı olmasıyla ilgilidir?

- A) Yükselti değerleri
B) Bitki örtüsü
C) Yağış miktarı
D) Enlem derecesi





İnsanlar, Yerler ve Çevreler - 2

1. Erzurum - Kars yöresinde yaz yağışları etkili olduğu için gür çayır ve otlaklar yaygındır.

Bu durum yörede aşağıdaki hayvancılık faaliyetlerinden hangisinin gelişmesine katkı sağlamıştır?

- A) Arıcılık
B) İpek böcekçiliği
C) Büyükbaş hayvancılık
D) Kümes hayvancılığı

2. Toprağın akarsular, sel suları ve rüzgârlar gibi dış etkenlerle aşındırıp bulunduğu yerden başka bir yere taşınması olayına - - - - denir.

Yukarıdaki metinde boş bırakılan yere aşağıdakilerden hangisi getirilmelidir?

- A) Deprem
B) Erozyon
C) Çiğ
D) Heyelan

3. I. Tarıma elverişli arazilerin olması
II. Su kaynaklarının yetersiz olması
III. Ticaretin yoğun olması
IV. Zengin yer altı kaynaklarının olması

Yukarıdakilerden hangileri bir bölgenin yerleşim yeri olarak seçilmesinde etkili faktörler arasındadır?

- A) I ve II.
B) II ve III.
C) III ve IV.
D) I, III ve IV.

4. Dağlık alanlarda yoğun kar yağışından dolayı yamaçlarda tutunamayan kar kütleleri bulunduğu yerden koparak yuvarlanır, yuvarlandıkça büyür ve çığ oluşur.

Bu olayın aşağıdaki illerimizden hangisinde görülme ihtimali daha azdır?

- A) Ağrı
B) Ardahan
C) Mersin
D) Hakkâri

5. Karadeniz Bölgesi ülkemizdeki orman varlığı bakımından ilk sırada yer alır. Ancak ülkemizde görülen orman yangınlarının az bir kısmı Karadeniz Bölgesi'nde ortaya çıkmaktadır.

Bu duruma Karadeniz Bölgesi'nin hangi özelliğinin sebep olduğu söylenebilir?

- A) Dağlık bir bölge olması
B) Her mevsiminin yağışlı olması
C) Ekonomisinin orman ürünlerine dayanması
D) Deniz kenarında olması

6. Erozyona maruz kalan bölgeler genelde kurak ve ağaç varlığının az olduğu bölgelerdir.

Buna göre erozyonun meydana geldiği illerimizde aşağıdakilerden hangisinin yapılması daha etkili bir önlemdir?

- A) Tarım arazilerinin sulanması
B) Ağaçlandırma çalışmalarının yapılması
C) Mera hayvancılığının teşvik edilmesi
D) Toprakların nadasa bırakılması

İnsanlar, Yerler ve Çevreler - 2

7. Ormanların çok olduğu Karadeniz Bölgesi'nde ahşap evler tercih edilirken, kışların ılık, yazların sıcak geçtiği Akdeniz Bölgesi'nde taş evler tercih edilir.

Yalnızca bu bilgiye göre mesken yapımında aşağıdakilerden hangisinin etkisinden söz edilemez?

- A) Bitki örtüsü
B) İklim şartları
C) Doğal çevreden elde edilen malzemeler
D) Tarihî olaylar

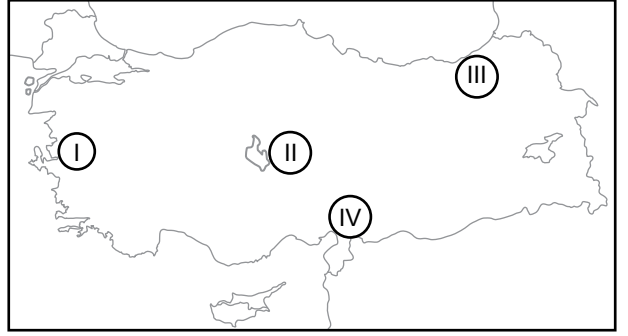
8. Aşağıdakilerden hangisi doğal afetlerin insanlar üzerinde bıraktığı olumsuz etkilerinden değildir?

- A) Hayal kırıklığı yaşatması
B) Stresi artırması
C) Gelecek kaygısı oluşturması
D) Dayanışmayı artırması

9. Aşağıdakilerden hangisi depremin zararlarını azaltmak için alınması gereken önlemlerden biri değildir?

- A) Yerleşim yerlerini sağlam zeminler üzerine inşa etmek
B) Deprem bölgelerini ağaçlandırmak
C) Bina yapımında dayanıklı malzemeler kullanmak
D) Deprem konusunda halkı bilinçlendirmek

10.



Yukarıda numaralanmış yerlerden hangisinde heyelan görülme ihtimali daha fazladır?

- A) I. B) II. C) III. D) IV.

11. Trabzon, Rize ve Giresun'un dağlık kesimlerinde nüfusun seyrek olmasında;

- I. su kaynakları,
II. ormanların varlığı,
III. yer şekilleri

unsurlarından hangilerinin etkisi vardır?

- A) Yalnız I.
B) Yalnız II.
C) I ve II.
D) II ve III.

12. Orman yangınlarının sebepleri doğal ve beşeri sebepler şeklinde sınıflandırılabilir.

Bu sınıflandırmaya göre aşağıdakilerden hangisi diğerlerinden farklı grupta yer alır?

- A) Yıldırım düşmesi B) Piknik ateşi
C) Sigara izmariti D) Cam kırıkları



İnsanlar, Yerler ve Çevreler - 3

1. Bitki örtüsü bakımından fakir ve eğimli yamaçlarda bulunan toprağın su, rüzgâr vb. etkilerle aşındırılarak başka yerlere taşınmasında erozyon denir.

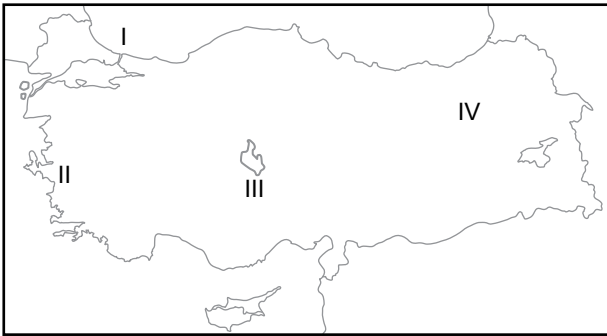
Buna göre aşağıdakilerden hangisi erozyonu artıran nedenlerden biri değildir?

- A) Aşırı ve şiddetli yağış
B) Bitki örtüsünün yok edilmesi
C) Meraların aşırı otlatılması
D) Boş arazilerin ağaçlandırılması

2. **Aşağıdaki doğal afetlerden hangisinin oluşumunda hava olayları etkili olmamıştır?**

- A) Sel
B) Çığ
C) Kuraklık
D) Deprem

3.



Yukarıdaki harita incelendiğinde kaç numaralı bölgede deprem olma ihtimali daha azdır?

- A) I. B) II. C) III. D) IV.

4. **Aşağıdaki doğal afetlerden hangisinin meydana gelmesinde aşırı yağış ve kar erimeleri etkilidir?**

- A) Kuraklık
B) Sel
C) Deprem
D) Erozyon

5. **Aşağıdakilerden hangisi doğal afetlerde meydana gelebilecek can ve mal kayıplarını azaltmaya yönelik yapılabilecek uygulamalardan değildir?**

- A) Dere yataklarına yerleşilmesi
B) Doğal bitki örtüsünün korunması
C) Az katlı binalar inşa edilmesi
D) Ağaçlandırma yapılması

6. I. Yer şekilleri
II. Yer altı kaynakları
III. Ulaşım yolları

Yukarıdakilerden hangilerinin iklimin oluşmasında etkili olduğu söylenir?

- A) Yalnız I. B) I ve II.
C) II ve III. D) I, II ve III.

İnsanlar, Yerler ve Çevreler - 3

7. Aşağıdakilerden hangisi iklimden etkilenmez?

- A) Tarım ürünlerinin çeşidi
- B) Mesken tipleri
- C) Yiyecek ve giyecek türleri
- D) Yer altı kaynakları

8. Aşağıdakilerden hangisi fiziki haritada yeşil renk ile gösterilebilir?

- A) Çukurova
- B) Kızılırmak
- C) Uludağ
- D) Tuz Gölü

9. I. Ulaşımın kolay olması
II. Ilıman iklime sahip olması
III. Yer şekillerinin engebeli olması
IV. Sanayisinin gelişmiş olması

Yukarıdakilerden hangileri bir bölgenin yerleşim yeri olarak tercih edilmesinde etkilidir?

- A) I ve II.
- B) II ve III.
- C) I, II ve III.
- D) I, II ve IV.

10. Bir yerin nüfusunun fazla olmasının doğal ve beşeri sebepleri vardır. Bunlardan;

- I. Yeryüzü şekilleri,
- II. Ekonomik faaliyetler,
- III. İklim özellikleri

hangileri doğal sebeplere aittir?

- A) Yalnız I.
- B) I ve II.
- C) I ve III.
- D) II ve III.

11. Aşağıdakilerden hangisi insanların istek ve ihtiyaçlarını karşılamak için doğal çevreyi kullanma biçimlerinden değildir?

- A) Enerji elde etmek için baraj yapılması
- B) Beslenmek için tarım yapılması
- C) Ulaşım için tünel açılması
- D) İletişim için telefon yapılması

12. Aşağıdakilerden hangisi çevre sorunlarının oluşmasında etkilidir?

- A) Kalitesiz yakıt kullanılması
- B) Güneş enerjisi kullanımı
- C) Atıkların ayrıştırılması
- D) Ormanların çoğaltılması



Bilim, Teknoloji ve Toplum - 1

1. Aşağıdakilerden hangisi doğru ve güvenilir bilgiye erişmek için alınan tedbirlerden değildir?

- A) Resmî sitelerden araştırma yapmak
- B) Bilimsel araştırmalardan yararlanmak
- C) Ulaşılan bilgileri başka kaynaklarla karşılaştırmak
- D) Güncel olmayan siteleri kullanmak

2. Aşağıda sosyal medya paylaşımlarımız ile ilgili bir internet haberi verilmiştir.

Geçtiğimiz yıl internet devlerinden birinin 1,5 milyar adet müşterisini etkileyen ve tarihin en büyük veri sızıntısı olarak kayda geçen siber saldırı dikkatleri bir kez daha veri güvenliği konusunun önemine çekti.

Buna göre aşağıdakilerden hangisine ulaşılabilir?

- A) Sosyal medya dikkatli kullanılmalıdır.
- B) Paylaşımlarımız istismar edilebilir.
- C) İnternet aile içi iletişimi olumsuz etkiler.
- D) Paylaştığımız veriler güvende değildir.

3. Günlük hava durumunu öğrenmek isteyen bir kişi en doğru bilgiye ulaşmak için aşağıda yer alan internet adreslerinden hangisinden faydalanmalıdır?

- A) Türk Dil Kurumu (www.tdk.gov.tr)
- B) Meteoroloji Genel Müdürlüğü (www.mgm.gov.tr)
- C) Millî Eğitim Bakanlığı (www.meb.gov.tr)
- D) Merkezî Hekim Randevu Sistemi (www.mhrs.gov.tr)

4. Aşağıdakilerden hangisi bilinçli bir internet kullanıcısının özelliklerinden biri olamaz?

- A) Paylaşılan herşeyin doğru olmayabileceğini bilir.
- B) Gerçekte suç sayılan bir şeyin, internette de suç olduğu bilincindedir.
- C) Doğruluğundan emin olmadığı aldatıcı paylaşımlarda bulunmaz.
- D) Sanal ortamda her şeyi paylaşmanın özgürlük olduğunu düşünür.

5. Aşağıdakilerden hangisi internetten güvenli alışveriş yapmak için dikkat edilmesi gerekenlerden biri değildir?

- A) Parola bilgileri gizli tutulmalıdır.
- B) Güvenlik önlemleri olan bilinen siteler tercih edilmelidir.
- C) Ortak kullanılan ağlar yerine kişisel ağ tercih edilmelidir.
- D) Doğum tarihi gibi kolay hatırlanabilir şifreler kullanılmalıdır.

6. Sanal ortamda isteyen herkes bilgi yükleyebilmekte ve yüklediği bilgilerin yayılmasını sağlayabilmektedir.

Buna göre sanal ortamda ulaştığımız bilgiler ile ilgili aşağıdakilerden hangisi söylenemez?

- A) Bilgiler her zaman doğru ve güvenilir olmayabilir.
- B) Yüklenen tüm bilgiler kontrolden geçmektedir.
- C) Bu bilgiler her dönem kullanılabilir.
- D) Herkesin ulaşımına açık değildir.

Bilim, Teknoloji ve Toplum - 1

7. Eski Mısır'da tarım faaliyetleri Nil nehrinin su seviyesine bağlıydı. Bu nehrin suları yılın belirli dönemlerinde yükselmekte, belirli dönemlerinde ise azalmaktaydı. Bunun için sel zamanını, tarım zamanını ve kuraklık zamanını gösteren bir takvim icat edildi.

Metne göre aşağıdakilerden hangisine ulaşamaz?

- A) Buluşlara deney ve gözlemler sonucu ulaşılmıştır.
B) İhtiyaçlar insanları buluş yapmaya itmiştir.
C) Ay yılı esaslı takvim icat edilmiştir.
D) Buluşlar insan hayatını kolaylaştırmıştır.

8. Teknoloji insanların yaşamlarını olumlu ya da olumsuz şekilde etkilemektedir.

Buna göre aşağıdakilerden hangisi teknolojinin olumsuz etkilerindedir?

- A) Gidilecek yere daha hızlı ulaşılması
B) Hastalıkların daha kolay tedavi edilmesi
C) Aile içi iletişimin zayıflaması
D) Kısa sürede hızlı üretim yapılması

9. I. İnternet
II. Ansiklopedi
III. Süreli bilimsel yayınlar

Yukarıdakilerden hangisi teknolojik gelişmelerin öğrenilebileceği ve bilimsel bilgilerin elde edileceği kaynaklardandır?

- A) Yalnız I. B) Yalnız II.
C) II. Ve III. D) I, II ve III.

10. Edison ampülü iki binden fazla yaptığı deneme sonunda bulmuştur.

Yukarıdaki parçada bilim insanının hangi özelliği ön plana çıkmaktadır?

- A) Gözlemci B) Sabırlı
C) Tutumlu D) Şüpheli

11. I. Çıkarıcı
II. Araştırmacı
III. Şüpheli

Yukarıda verilen özelliklerden hangileri bilim insanlarına ait bir özelliktir?

- A) Yalnız I. B) Yalnız II.
C) I ve II. D) II ve III.

12. Aşağıdakilerden hangisi bilimsel araştırmalarda dikkat edilmesi gerekenlerden değildir?

- A) Tek kaynaktan yararlanmak
B) Bilginin alındığı kaynağı belirtmek
C) Resmî ve uzman sitelerden faydalanmak
D) Kişilerin ifadelerini değiştirmeden belirtmek





Bilim, Teknoloji ve Toplum - 2

1. Eskiden bilginin kaynağına ulaşmak için ansiklopediler, kütüphaneler ve kitapevleri ideal araçlardı. Bilgi ve iletişim çağı olarak adlandırılan günümüzde ise en büyük bilgi kaynağı internet olmaya başladı.

Aşağıdakilerden hangisi internette doğru ve güvenilir bilgiye erişmek için dikkat edilmesi gerekenlerden değildir?

- A) Farklı web sitelerindeki bilgileri karşılaştırmak
- B) İnternette karşılaşılan her bilgiyi doğru kabul etmek
- C) Güncel olan bilgilerden faydalanmak
- D) Edu uzantılı güvenilir siteleri tercih etmek

2. **Aşağıdakilerden hangisi sanal ortamda karşımıza çıkabilecek olumsuz durumlardan biri değildir?**

- A) Kişisel bilgilerimizin kötü niyetli kişilerce kullanılması
- B) İndirilen dosyalarda virüs bulunması
- C) Zamanın çoğunun internette kaybedilmesi
- D) Kurumsal uygulamalardan faydalanılması

3. Teknolojinin bize kazandırdığı en önemli yenilik bilişim alanında olmuştur. Artık, insanlar dünyanın neresinde olurlarsa olsunlar, çeşitli iletişim araçlarıyla istedikleri bilgiye ulaşabilmektedirler.

Aşağıdakilerden hangisi günümüzde fazla kullanılan iletişim araçlarından biri değildir?

- A) Telgraf
- B) Televizyon
- C) Bilgisayar
- D) Telefon

4. **Aşağıdakilerden hangisi bilim insanlarının özelliklerinden değildir?**

- A) Çalışmalarını sabırla sürdürmeleri
- B) İyi bir gözlemci olmaları
- C) Topluma faydası olacak çalışmalar yapmaları
- D) Bilgileri sorgulamadan kabul etmeleri

5. **Aşağıdakilerden hangisi, bilim insanları tarafından ortaya konulan buluşların yararlarından değildir?**

- A) İnsanları tüketime alıştırması
- B) Zamandan tasarruf sağlaması
- C) Yaşam kalitesini artırması
- D) Eğitimi kolaylaştırması

6. **Bilim insanı bilimsel çalışma yaparken aşağıdakilerden hangisinden yararlanmaz?**

- A) Deneysel
- B) Rivayet
- C) Araştırma
- D) Gözlem

Bilim, Teknoloji ve Toplum - 2

7. Yeni araştırmalar yayınlamak bilimin gelişimine destek vermeyi hedefleyen yayınlara "Bilimsel Dergi" denir.

Aşağıdakilerden hangisi bilimsel dergilerin amaçlarından biri değildir?

- A) Okurlarına bilimi sevdirmek
- B) Araştırma yapma duygusunu geliştirmek
- C) Okurlarını ezber yapmaya alıştırmak
- D) Bilimin gelişmesine destek vermek

8. • Türk İslam bilim adamıdır
• Tıp alanında yaptığı çalışmalarla tanınır
• Batı tıp biliminin temelini oluşturmuştur

Özellikleri verilen bilim insanı aşağıdakilerden hangisidir?

- A) İbni Sina
- B) Mimar Sinan
- C) Isaac Newton
- D) Cahit Arf

9. Bağımlılık; kişinin bedensel, ruhsal ve sosyal hayatını olumsuz etkiler. Bağımlılıklar toplumun felaketi sayılır.

Buna göre aşağıdakilerden hangisi teknoloji bağımlılarında görülen belirtilerden değildir?

- A) İnternette planladığından fazla zaman geçirmek
- B) Gece geç saatlere kadar bilgisayar başında kalmak
- C) Bilgisayardan uzakta iken gergin ve boşluktaymış gibi hissetmek
- D) Fatura ödemelerini internet bankacılığı ile yapmak

10. Pelin sosyal medyada bir bilgi okumuştur. Bu bilginin doğruluğundan ise şüphe etmiştir.

Buna göre Pelin'in aşağıdakilerden hangisini yapması doğru olmaz?

- A) Yetkili kurumların açıklamalarını takip etmesi
- B) Şüpheye düştüğü bilgileri farklı ağ adreslerinden kontrol etmesi
- C) Çeşitli kaynaklara başvurması
- D) Yanlış bir bilginin yayınlanmayacağını düşünmesi

11. **Aşağıdakilerden hangisi yaptığımız araştırmalarda yararlandığımız kaynakları göstermenin sonuçlarından biri değildir?**

- A) Bilginin gerçek sahibini göstermiş oluruz.
- B) Çalışmamıza güvenilirlik katarız.
- C) Yazarın kârına ortak oluruz.
- D) Bilgi kaynağına başkalarının da ulaşmasına imkân vermiş oluruz.

12. **Aşağıdakilerden hangisi buluş yapanların ve bilim insanlarının ortak özelliklerinden değildir?**

- A) Sorgulayıcı
- B) Gözlemci
- C) Aceleci
- D) Araştırmacı



Üretim, Dağıtım ve Tüketim - 1

1. Mardin evlerinin neredeyse tamamının yapımında da kullanılan malzeme taştır, bu taşlar normal taştan ayrı olarak açık renkli sarımsı bir yapıdadır.

Mardin de yapı malzemesi olarak taş tercih edilmesinin nedeni aşağıdakilerden hangisidir?

- A) Bölgede bol miktarda taş bulunması
B) Depreme karşı taşın dayanıklı olması
C) Taştan ev yapımının kolay ve hızlı olması
D) Taşın yangına karşı direncinin yüksek olması

2. Kapadokya bölgesinde turizm faaliyetleri oldukça gelişmiştir.

Bu bölgede turizm faaliyetlerinin gelişmiş olmasının sebebi aşağıdakilerden hangisidir?

- A) Şelalelerin yaygın olması
B) Kaplıcaların bulunması
C) Yaz sıcaklığının yüksek olması
D) Peribacalarının bulunması

3.



Çay fabrikasında çalışıyorum.

Zeytinyağı fabrikasında işçi olarak çalışıyorum.

Yazları pamuk tarlalarında çalışıyorum



Yukarıda yaptıkları işler hakkında bilgi veren kişilerin sırasıyla aşağıdaki bölgelerden hangisinde iş bulma imkanları daha fazladır?

- A) Güneydoğu Anadolu - Karadeniz - Marmara
B) Marmara - Güneydoğu Anadolu - Karadeniz
C) Karadeniz - Marmara - Güneydoğu Anadolu
D) Karadeniz - Güneydoğu Anadolu - Marmara

4. • Yükselti fazladır.
• Tarım alanları sınırlıdır.
• Yaz yağışları fazla olduğu için gür otlar vardır.

Yukarıda özellikleri verilen bir bölgede hangi ekonomik faaliyetin daha fazla gelişmesi beklenir?

- A) Tarım
B) Hayvancılık
C) Turizm
D) Sanayi

5. Bölgede doğal ve beşerî ortamın uygun olması, bölgedeki ekonomik faaliyetleri çeşitlendirmiştir. Keten, ayçiçeği, zeytin, mısır, buğday bunlardan bazılarıdır. Bölgenin önemli şehirlerinden İstanbul, tüm Türkiye'nin ithalat, ihracat, bankacılık ve sigortacılık merkezi hâline gelmiştir.

Yukarıdaki metinde özellikleri sıralanan bölge aşağıdakilerden hangisidir?

- A) Marmara Bölgesi
B) Ege Bölgesi
C) Akdeniz Bölgesi
D) İç Anadolu Bölgesi

6.



Ben Ayçin evde keçe ile süs eşyaları yapmaya başladım, önce yakın çevrem bu süs eşyalarını satın almaya başladı. Daha sonraki zamanlarda işlerimi daha çok ilerlettim, artık anlaştığım birkaç mağazaya süs eşyaları yapıp satıyorum.

Buna göre Ayçin Hanım ile ilgili,

- I. Üretime katkı sağlamıştır,
II. Girişimciliği başarılı olmuştur,
III. Ülke ekonomisine katkıda bulunmuştur

durumlarından hangilerine ulaşılabilir?

- A) I ve II.
B) I ve III.
C) II ve III.
D) I, II ve III.

Üretim, Dağıtım ve Tüketim - 1

7. I. Konya'da şeker pancarı tarımının yapılması.
II. Şekerin Konya'da fabrikadan Ankara'ya getirilmesi.
III. Yapılan tatlılarda şekerin kullanılması.

Yukarıda verilen faaliyetlerin türü aşağıdakilerden hangisinde doğru olarak verilmiştir?

I	II	III
A) Üretim	Dağıtım	Tüketim
B) Dağıtım	Tüketim	Üretim
C) Üretim	Tüketim	Dağıtım
D) Dağıtım	Üretim	Tüketim

8. Hammaddenin çabuk bozulabilir olduğu ürünlerin üretim tesisleri hammadde kaynağına yakın yerlerde kurulur.

Bu duruma aşağıdaki sanayi dallarından hangisi örnek gösterilemez?

- A) Konserve Fabrikaları
B) Çay Fabrikaları
C) Şeker Fabrikaları
D) Yünlü dokuma Fabrikaları

9. Ülkemizde yetiştirilen buğdayın olgunlaşma süresi bölgeden bölgeye farklılık gösterir.

Bu farklılığın temel sebebi aşağıdakilerden hangisidir?

- A) İklim özellikleri
B) Yer şekilleri
C) Bitki örtüsü
D) Makine kullanımı

10. Doğu Anadolu Bölgesi en fazla göç veren bölgelerimizden biridir.

Aşağıdakilerden hangisi bu bölgenin göç vermesinin en önemli nedenidir?

- A) Yazların kurak geçmesi
B) Maden çeşitliliğinin fazla olması
C) Otlakların geniş yer kaplaması
D) İş imkanlarının yetersiz olması

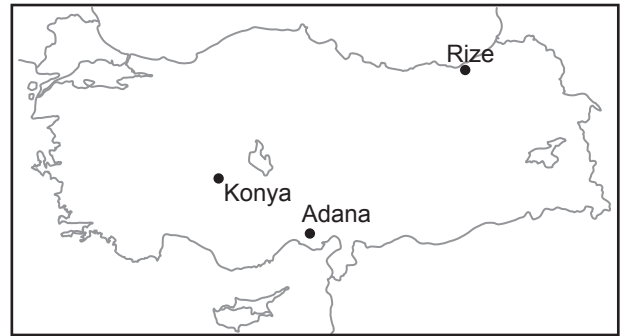
11. Karadeniz Bölgesi'nin;

- Uzun bir kıyı şeridine sahip olması,
- Bitki örtüsünün orman olması,
- Her mevsim yağışlı olması,
- Engebeli yer şekillerine sahip olması

özellikleri dikkate alındığında aşağıdaki ekonomik faaliyetlerden hangisinin bölgede daha az gelişmesi beklenir?

- A) Balıkçılık
B) Ormancılık
C) Deniz Turizmi
D) Kağıt Sanayi

- 12.



Haritada verilen yerler ile bu yerlerde gelişen sanayi faaliyetleri hangi seçenekte doğru eşleştirilmiştir?

Konya	Adana	Rize
A) Çay fab.	Dokuma fab.	Şeker fab.
B) Şeker fab.	Dokuma fab.	Çay fab.
C) Dokuma fab.	Şeker fab.	Çay fab.
D) Şeker fab.	Çay fab.	Dokuma fab.



Üretim, Dağıtım ve Tüketim - 2

1. İş adamı Harun Bey, Aksaray'ın Ağaçören ilçesinde süt ürünleri fabrikası açmak istiyor.

Buna göre, fabrika kurulduğunda ilçede aşağıdaki gelişmelerden hangisinin olması beklenmez?

- A) İşsizlik azalır.
B) Göç verir.
C) Konut ihtiyacı artar.
D) Üretim artar.

2. İlkbahar mevsiminin kurak geçmesi buğday üretimini olumsuz etkilemektedir.

Bu durumdan aşağıdaki sanayi dallarından hangisi doğrudan etkilenir?

- A) Makarna fabrikaları
B) Zeytin yağı fabrikaları
C) Şeker fabrikaları
D) Süt ürünleri fabrikaları

3. Nem ve yağış koşullarının yeterli olduğu alanlarda ormancılık faaliyetleri gelişmiştir.

Buna göre ülkemizde;

- I. Rize,
II. Muğla,
III. Konya

şehirlerinin hangilerinde ormancılığın geliştiği söylenebilir?

- A) Yalnız I. B) Yalnız II.
C) I ve II. D) I, II ve III.

4. Ülkemizde ticaretin, sanayinin, ulaşımın ve hizmet sektörünün en fazla geliştiği illerden biri de İstanbul'dur.

Buna göre İstanbul'da aşağıdaki mesleklerden hangisinin daha az olması beklenir?

- A) Bankacı B) Şoför
C) Tüccar D) Çiftçi

5. Akdeniz Bölgesi önemli turizm merkezlerinin bulunduğu bir bölgedir. Ayrıca bölgede seracılık gibi tarımsal faaliyetler ön plandadır. Sanayi faaliyetleri ise çoğunlukla Adana ili sınırlarında yoğunlaşmıştır. Pamuklu dokuma, konserve, yağ fabrikaları ve otomotiv sanayi bunlardan bazılarıdır.

Buna göre Akdeniz Bölgesinde çalışmak isteyen bir kişinin aşağıdaki mesleklerden hangisini seçmesi uygun olmaz?

- A) Çiftçilik
B) Petrol mühendisliği
C) Turizm rehberliği
D) Ziraat mühendisliği

- 6.



Yukarıda verilen kutucuklardan hangisi girişimci bir kişide bulunması gereken niteliklerden biri değildir?

- A) I B) II C) III D) IV

Üretim, Dağıtım ve Tüketim - 2

7. Doğu Anadolu Bölgesi nüfus yoğunluğunun en az olduğu bölgemizdir.

Bu durumun nedeni olarak;

- I. Dışarıya göç vermesi,
- II. İş imkânlarının az olması,
- III. Büyükbaş hayvancılığın yapılması

faktörlerinden hangilerinin etkili olduğu söylenebilir?

- A) I ve II. B) I ve III.
C) II ve III. D) I, II ve III.

8. Mine'nin babası Edirne'de ayçiçeği fabrikası kurmayı planlamaktadır.

Buna göre planlama yaparken;

- I. Ulaşım olanakları
- II. Ham maddeye yakınlık
- III. Sermaye

faktörlerinden hangilerini göz önünde bulundurmalıdır?

- A) I ve II. B) I ve III.
C) II ve III. D) I, II ve III.

10. Aşağıdakilerden hangisi Akdeniz Bölgesi'nde turizmin gelişmesinin nedenlerinden biri değildir?

- A) Yazların uzun sürmesi
- B) Doğal ve tarihî güzelliklerin olması
- C) Dağların denize paralel uzanması
- D) Deniz suyu sıcaklığının yüksek olması

11. Ahmet Bey marketten kilosu 20 TL olan zeytinden bir kilo almıştır. Alışveriş fişini kontrol ettiğinde zeytinin fiyatının fişte 25 TL yazdığını farketmiştir.

Bilinçli bir tüketici olan Ahmet Bey bu durumda öncelikle aşağıdakilerden hangisini yapmalıdır?

- A) Tüketici Hakları Hakem heyetine başvurmalı
- B) Yaşadığı sorunu satıcı veya hizmet sağlayan kişiyle çözmeye çalışmalı
- C) Satıcıyı veya hizmet sağlayan kişiyi mahkemeye vermeli
- D) İl merkezinde valiliklere ilçe merkezinde kaymakamlığa gitmeli

12.



Yaşadığım yer deniz kenarındadır. Buranın iklimi çok güzel, kışları hiç üşümüyor. Yazları ise sıcak ve nemli oluyor. Biz yazları daha serin yerlere tatile giderken, diğer insanlar yaz tatilleri için buraya geliyorlar. Bölgemizde birçok ürün yetişebiliyor. İnsanlar av sezonunda balık avlamak için tekneleriyle denize açılıyorlar. Yaşadığım yeri çok seviyorum.

Alperen, yaşadığı bölgede hangi ekonomik faaliyetin yapıldığından söz etmemiştir?

- A) Tarım B) Balıkçılık
C) Sanayi D) Turizm





Üretim, Dağıtım ve Tüketim - 3

1. Babası Zeynep'e bir mağazadan ayakkabı almıştır. Yeni ayakkabısının sevinciyle okula giden Zeynep ilk günde ayakkabısının dikişlerinin söküldüğünü fark etmiştir.

Buna göre Zeynep'in bilinçli bir tüketici olarak aşağıdakilerden hangisini yapması doğru olmaz?

- A) Babasına söylemeden ayakkabıyı kullanmaya devam etmesi
- B) Ödediği ücretin iadesini talep etmesi
- C) Karşılaştığı sorunu ürünü aldığı yere bildirmesi
- D) Yenisiyle değiştirilmesini talep etmesi

2. I. Çiftlikteki hayvanlardan süt elde edilmesi
II. Elde edilen sütlerin peynire dönüştürülmesi
III. Peynirlerin marketlere ulaştırılması

Yukarıda verilen ekonomik faaliyetlerden hangileri üretime girmektedir?

- A) Yalnız I.
- B) I ve II.
- C) I ve III.
- D) I, II ve III.

3. Girişimci insan açık fikirli olan, değişen şartlara uyum sağlayıp gözlem yaparak fırsatları değerlendiren kişidir.

Buna göre aşağıdakilerden hangisi girişimci bir insanın özelliklerinden biri olamaz?

- A) İyi bir gözlemcidir
- B) Kendini sürekli geliştirir
- C) Yeniliklere kapalıdır
- D) Fırsatları değerlendirir

4. Karadeniz'de geçim kaynağı ormancılık olan bir köyde son yıllarda doğal güzelliklere dayalı olarak turizm gelişmiştir. Yurt dışından binlerce turist yaz aylarında doğal güzellikleri görmek için köye gelmeye başlamıştır.

Buna göre köyde turizm faaliyetlerinin gelişmesine bağlı olarak aşağıdakilerden hangisine duyulan ihtiyaç artmaz?

- A) Lokanta
- B) Otel
- C) Kayak malzemeleri
- D) Ulaşım

5. Doğu Anadolu Bölgesi'nde yaz mevsiminin yağışlı geçmesi nedeniyle otlaklar geniş yer kaplar. Bu nedenle hayvancılık bölgenin en önemli ekonomik faaliyetidir.

Bölgede bu ekonomik faaliyete bağlı olarak aşağıdaki mesleklerden hangisinin gelişmesi beklenmez?

- A) Veterinerlik
- B) Çobanlık
- C) Besicilik
- D) Orman bekçiliği

6. **Aşağıdakilerden hangisinde verilen hizmet sektörü ile bu sektörün ihtiyaç duyduğu meslek grubu yanlış eşleştirilmiştir?**

Hizmet Sektörü	Meslek
A) Turizm	Bankacılık
B) Ulaşım	Kaptanlık
C) Eğitim	Öğretmenlik
D) Sağlık	Doktorluk

Üretim, Dağıtım ve Tüketim - 3

7.

Evimize bir elektrikli süpürge satın almıştık. Eve gelip kullandığımızda arızalı olduğunu gördük. Faturasıyla satıcıya götürdük. Fakat satıcı süpürgeyi değiştirmeyi kabul etmedi.



Bu durumda aşağıdakilerden hangisine başvurulması uygun değildir?

- A) İnsan Hakları Derneğine
- B) Tüketici Sorunları Hakem Heyetine
- C) Tüketici Mahkemelerine
- D) Tüketici Hakları Koruma Derneğine

8. Bir bölgeye ait ekonomik ve coğrafi özelliklerden bazıları şunlardır:

- Verimli topraklara sahiptir.
- Büyükbaş hayvan yetiştiriciliği yapılmaktadır.
- Taşkömürü kaynağı fazladır.

Verilen bilgilere göre bu bölgede aşağıdaki mesleklerden hangisinin daha az gelişmesi beklenir?

- A) Çiftçi
- B) Madencilik
- C) Marangoz
- D) Hayvancılık

9. Türkiye'de sanayinin en fazla geliştiği şehrimiz İstanbul'dur.

Aşağıdakilerden hangisi sanayi sektörünün İstanbul'da gelişmesinin sebeplerinden biri değildir?

- A) Ulaşımın kolay olması
- B) Enerji üretiminin çok olması
- C) Nitelikli insan gücünün fazla olması
- D) Satış olanaklarının çok olması

10. İç Anadolu Bölgesi;

- Geniş ova ve platolara sahiptir.
- Karasal iklim görülür.
- Un, makarna, bisküvi fabrikası vardır.

Buna göre aşağıdakilerden hangisine ulaşamaz?

- A) Tahıl üretimi yapılmaktadır.
- B) Karayolu yapımı kolaydır.
- C) Tarıma dayalı sanayi gelişmiştir.
- D) Ormanlık gelişmiştir.

11. Akdeniz Bölgesi'nin geniş kıyılara sahip olması ve bölgede yaz mevsiminin uzun sürmesi turizm faaliyetlerinin gelişmesini sağlamıştır.

Bölgede turizm faaliyetlerinde çalışmak için aşağıdaki mesleklerden hangisine ihtiyaç duyulmaz?

- A) Aşçılık
- B) Turizm rehberliği
- C) Otel işletmeciliği
- D) Ziraat mühendisi

12. Erzurum-Kars yöresinde büyükbaş hayvancılık yaygınken Konya ve Aksaray çevresinde küçükbaş hayvancılık yaygındır. Ayrıca İstanbul ve Ankara gibi büyük şehirlerin yakınında ise kümes hayvancılığı yaygın olarak yapılmaktadır.

Bu şehirlerde farklı hayvancılık faaliyetlerinin yapılmasında aşağıdakilerden hangisinin etkisi yoktur?

- A) Bitki örtüsü
- B) Yeryüzü şekilleri
- C) Tüketici nüfusa yakınlığı
- D) Madenlerin varlığı





Etkin Vatandaşlık - 1

1. Her kurumun yasalarca belirlenmiş görev ve sorumlulukları vardır.

Aşağıdakilerden hangisi sağlık kurumlarının görevlerinden biri değildir?

- A) Çöplerin zamanında toplanmasını sağlamak
- B) Bulaşıcı, salgın hastalıklara koruyucu önlem almak
- C) Tedavi edici hekimlik hizmetlerini yapmak
- D) Çocuk sağlığının korunmasını sağlamak

2. Sağlıklı ve temiz bir çevrede yaşamak, toplumun önemli ihtiyaçları arasındadır. Bu ihtiyacı karşılayan birçok kurum vardır.

Aşağıdakilerden hangisi bu kurumlardan değildir?

- A) Belediyeler
- B) Çevre ve Şehircilik Bakanlığı
- C) Orman ve Su İşleri Bakanlığı
- D) Adalet Bakanlığı

3. I. Çocuk Esirgeme Kurumu
II. Toplu Konut İdaresi (TOKİ)
III. Sağlık Ocakları
IV. Aşevleri

Yukarıdakilerden hangileri toplumun temel ihtiyacı olan barınma ile ilgili kurum ve kuruluşlardandır?

- A) I ve II.
- B) II ve III.
- C) II ve IV.
- D) III ve IV.

4. Devlet, toplumun temel ihtiyaçlarını karşılamakla sorumludur. Ancak nüfusun giderek artması dolayısıyla devlete destek olacak kuruluşlara ihtiyaç duyulmuştur.

Gönüllülerin desteğiyle toplum için hizmet eden bu kuruluş aşağıdakilerden hangisidir?

- A) Sivil Toplum Kuruluşları
- B) Sağlık Bakanlığı
- C) Adalet Bakanlığı
- D) Talim ve Terbiye Kurulu

5. Ülkemizde merkezi yönetime ve bakanlara yardımcı olmak, belli konularda görüş bildirmek ve denetim yapmak gibi amaçlarla oluşturulmuş çeşitli kurumlar vardır.

Aşağıdakilerden hangisi bu kurumlardan değildir?

- A) Milli Güvenlik Kurumu
- B) Danıştay
- C) Sayıştay
- D) Milli Eğitim Bakanlığı

6. **Aşağıdakilerden hangisi sivil toplum kuruluşlarının faaliyet alanlarından biri değildir?**

- A) Hayvanların korunması
- B) İhtiyaç sahiplerine yardım
- C) Suçluların cezalandırılması
- D) Eğitim faaliyetlerinin desteklenmesi

Etkin Vatandaşlık - 1

7. Sivil Toplum Kuruluşları bireysel ya da toplumsal ihtiyaçları karşılar.

Buna göre;

- I. Sorumluluk duygusunu geliştirmesi,
- II. Dayanışma duygularını pekiştirmesi,
- III. Hoşgörülü olmayı sağlaması,

ifadelerinden hangileri Sivil Toplum Kuruluşlarının toplumsal katkılarından?

- A) I ve II. B) I ve III.
C) II ve III. D) I, II ve III.

8. • Topluma ağaç ve orman sevgisi kazandırmak
• Hayvancılığın temeli olan meraları koruyup geliştirmek
• Çölleşmeyle mücadelede dünyaya örnek olmak

Yukarıda kuruluş amaçları verilen sivil toplum kuruluşu hangisidir?

- A) ÇEVKO B) AKUT
C) TEMA D) KIZILAY

9.



Yukarıda verilen sivil toplum kuruluşunun çalışmalarıyla ilgili olarak;

- I. Toplumun sağlık ihtiyacını karşıladığı,
- II. Çevreyi koruduğu,
- III. Kültürel değerleri koruduğu,

ifadelerinden hangileri söylenebilir?

- A) Yalnız I. B) Yalnız II.
C) I ve III. D) II ve III.

10. **Aşağıdakilerden hangisi kaymakamın sorumlu olduğu kurumlardan biridir?**

- A) İl Emniyet Müdürlüğü
B) İlçe Milli Eğitim Müdürlüğü
C) Tarım İl Müdürlüğü
D) İl Sağlık Müdürlüğü

11. Abdullah her sabah okuluna toplu taşıma araçları ile gitmektedir. Fakat mevcut hareket saatlerinin yetersiz olmasından dolayı okula geç kalmakta ya da okulda uzun süre beklemektedir.

Abdullah'ın bu sorunun çözümü aşağıdaki yerel yönetim birimlerinden hangisinin görev alanına girmektedir?

- A) Valilikler
B) Belediyeler
C) Muhtarlıklar
D) Kaymakamlıklar

12. **Aşağıdakilerden hangisi eğitim kurumlarının görev ve sorumluluklarından değildir?**

- A) Eğitim öğretim hizmeti vermek
B) Kişilerin kültürel farklılıklarını ortadan kaldırmak
C) Kişileri yetenekleri doğrultusunda eğitmek
D) Topluma uyumlu kişiler yetiştirmek



Etkin Vatandaşlık - 2

1. Her mahalle ve köyün bir yöneticisi vardır. Bu yönetici seçimle iş başına gelir ve devletin mahalle ya da köydeki en yetkili temsilcisidir.

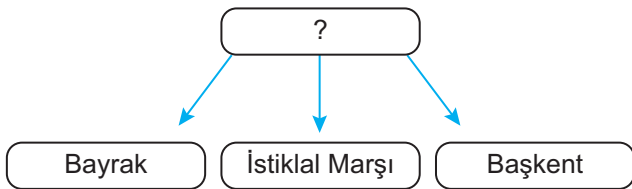
Hakkında bilgi verilen yerel yönetici aşağıdakilerden hangisidir?

- A) Vali
- B) Belediye başkanı
- C) Muhtar
- D) Kaymakam

2. **Aşağıdakilerden hangisi çocuk haklarından biri değildir?**

- A) Eğitim, kız erkek tüm çocuklara zorunludur.
- B) Çocuklar sağlıklı bir çevrede yaşamalıdır.
- C) Çocuklar düşüncelerini özgürce açıklayabilmelidir.
- D) Çocuklar fabrikalarda çalıştırılmalıdır.

3.



Yukarıdaki diyagrama getirilmesi gereken en uygun başlık aşağıdakilerden hangisidir?

- A) Merkezî Yönetim Birimleri
- B) Bağımsızlık Sembolleri
- C) Demokrasinin Temel İlkeleri
- D) Resmî Kurumlar

4. Çocuk Haklarına Dair Sözleşme'nin 12. Maddesi 'Çocuğun Katılım Hakkı' kendi görüşlerini oluşturma yeteneği olan her çocuğun kendini etkileyecek her konuda görüşlerini serbestçe ifade etmesi anlamını taşımaktadır.

Buna göre aşağıdakilerden hangisi katılım hakkına örnek gösterilemez?

- A) Okul öğrenci temsilcisi seçimlerinde aday olmak
- B) Hastalığımızın tedavisi için hastaneye gitmek
- C) Okulda yaşamımızı etkileyen konularda görüşlerimizi belirtmek
- D) Çevremizdeki sorunlarla ilgili düşüncelerimizi yetkililere iletmek

5. Kim bu cennet vatanın uğruna olmaz ki feda?
Şüheda fışkıracak, toprağı sıksan şüheda.
Canı, cananı, bütün varımı alsın da Hüda,
Etmesin tek vatanımdan beni dünyada cüda.

İstiklal Marşımızın yukarıda verilen kıtasından hareketle Mehmet Akif ERSOY'un hangi kavrama vurgu yaptığı söylenebilir?

- A) Barış
- B) Yurt sevgisi
- C) Çağdaşlaşma
- D) Demokrasi

6. Anayasamıza göre insanların sınırlandırılmaz temel hak ve özgürlükleri vardır. Ne sebeple olursa olsun bu haklar sınırlandırılmaz.

Buna göre aşağıdakilerden hangisi bu haklardan değildir?

- A) Yaşama Hakkı
- B) Düşünce ve Kanaat Özgürlüğü
- C) Din ve Vicdan Özgürlüğü
- D) Konut Dokunulmazlığı

Etkin Vatandaşlık - 2

7. Türkiye’de ulusal egemenliğin yönetime yansıdığı ve yasaların yapıldığı kurum aşağıdakilerden hangisidir?

- A) Türk Dil Kurumu
- B) Türk Tarih Kurumu
- C) Türkiye Büyük Millet Meclisi
- D) Merkez Bankası

8. Valilik;

“İlimizdeki kuş gribi salgınının önlenmesi için bir dizi önlemler alınacağı kamuoyuna duyurulmuştur.”

açıklamasına göre aşağıdakilerden hangisi söylenebilir?

- A) Güvenlik tedbirlerinin uygulanmasını sağlamıştır.
- B) Halkın sağlığını korumak için kararlar almıştır.
- C) Eğitimin aksamaması için önlem alınmıştır.
- D) Yasalara aykırı hareket etmiştir.

9. Fatma, annesine kendisini ilgilendiren bir konu ile ilgili görüşlerini bildirmiştir.

Buna göre annesinin Fatma’ya aşağıdaki cevaplarından hangisini vermesi düşünce özgürlüğüne saygılı olduğunu gösterir?

- A) Senin fikirlerin bizim için önemlidir.
- B) Sen anlamazsın, daha çok küçüksün.
- C) Bu konu seni hiç ilgilendirmiyor.
- D) Senin bu konuda söz söyleme hakkın yok!

10. Aşağıda verilen yönetim birimleri ve yöneticileri ile ilgili eşleştirmelerden hangisi **yanlıştır**?

Yönetim Birimleri	Yöneticileri
A) İl	Vali
B) Mahalle	İhtiyar Heyeti
C) İlçe	Kaymakam
D) Köy	Muhtar

11. E-devlet kapısı, devlet tarafından verilen bazı hizmetlerin elektronik ortamlarda sunulmasıdır. Bu sayede devlet hizmetlerinin vatandaşa en kolay ve etkili yoldan hızlı ve kesintisiz bir şekilde ulaştırılması hedeflenmektedir.

Buna göre aşağıdakilerden hangisi e-devlet ile sunulan hizmetlerden biri olamaz?

- A) Mahkeme dava dosyası sorgulama
- B) Vergi borcunu öğrenme
- C) Konut kirası ödeme
- D) Cep telefonu ile IMEI numarasını eşleştirme

12. Şehit kanlarıyla, vermişim rengini,
Gökten Ay’la-Yıldızı koparmışım;
Yüreğimi koymuşum sana, yüreğimi;
Birde vatan sevgimi....
Sen dalgalan, ben coşayım,
Uğruna destanlar yazayım!...

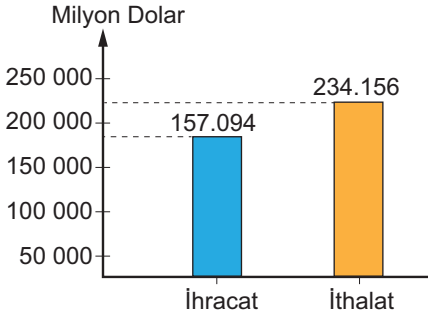
Yukarıdaki şiir bağımsızlık sembollerimizden hangisi ile ilgilidir?

- A) Bayrak
- B) İstiklal Marşı
- C) Başkent
- D) TBMM



Küresel Bağlantılar - 1

1. Aşağıda ülkemizin 2017 yılı ihracat ve ithalat grafiği verilmiştir.



Grafiğe bakarak aşağıdaki yargılardan hangisine ulaşılabilir?

- A) İthalat ihracattan fazladır.
B) Tarım ürünleri ihracatı fazladır.
C) İthalatta sanayi ürünlerinin payı fazladır.
D) Hammadde ihracatı sürekli artmıştır.

2. Günümüzde ülkeler arasındaki ticaret geçmişe göre daha hızlı ve güvenli bir şekilde yapılmaktadır.

Aşağıdakilerden hangisi bu durumun nedenlerinden biridir?

- A) Tarımsal üretimin artması
B) Tüketimin giderek artması
C) Ulaşım araçlarının gelişmesi
D) İşgücünün ucuzlaması

3. Avrupa'da üretilmiş ancak ülkemizde henüz satışa sunulmamış bir ürün sipariş edilirken hangi iletişim ve ulaşım aracı kullanılırsa ürüne daha hızlı ulaşılabilir?

- A) İnternet-Havayolu
B) Gazete-Demiryolu
C) Telefon-Karayolu
D) Faks-Denizyolu

4. I. Üretilen ürün internet ortamında satışa sunulursa daha fazla müşteriye ulaşır.
II. Telefon, faks, (belge geçer), gibi icatlar iletişim amaçlı kullanılır.
III. Ülkeler arası ekonomik ilişkilerin kolaylaşmasında ulaşım araçlarının etkisi azalmıştır.

İletişim ve ulaşım teknolojisiyle ilgili yukarıda verilen bilgilerden hangisi yanlıştır?

- A) Yalnız I. B) Yalnız III.
C) I ve II. D) II ve III.

5. Aşağıdakilerden hangisi dış ticaret kapsamında kullanılan en hızlı ulaşım aracıdır?

- A)  Kara yolu
B)  Hava yolu
C)  Demir yolu
D)  Deniz yolu

6. Üretilen ürünü satabilmek için reklam gereklidir. Reklamların amacı az zamanda daha fazla alıcıya ürünü tanıtmaktır.

Üretici firmalar az zamanda daha fazla müşteriye ürünü tanıtmak için aşağıdaki iletişim araçlarından hangisini tercih etmelidir?

- A) Telefon B) Fax
C) Dergi D) Televizyon

Küresel Bağlantılar - 1

7. Mal ve hizmetlerin alım satımı, alışveriş olarak adlandırılmaktadır. Yapılan alışveriş ülke sınırları içinde ise ___ (I) ___ ülke sınırları dışında ise ___ (II) ___ olarak adlandırılmaktadır.

Metinde boş bırakılan yerlere sırası ile aşağıdakilerden hangisi getirilmelidir?

	I	II
A)	Alışveriş	Ekonomi
B)	İç ticaret	Dış ticaret
C)	İthalat	İhracat
D)	Ticaret	Ekonomi

8. Denizli'nin Tavas ilçesine bağlı Kızılcabölük beldesinde 650 yıldır geleneksel yöntemlerle üretimi sürdürülen el dokuması peştamallar ABD, İngiltere, İtalya, Fransa, Almanya, Avustralya gibi ülkelere satılmaktadır.

Ülkemizden bu ülkelere yapılan ticarete ne ad verilir?

- | | |
|---------------|------------|
| A) İthalat | B) Turizm |
| C) İç ticaret | D) İhracat |

9. Aşağıdakilerden hangisi ülkeler arası ekonomik ilişkilerin kolaylaşmasında internetin faydalarından biri olamaz?

- A) Ürünlerin reklamının yapılması
B) Ürünlere daha kolay ulaşılması
C) Ürünlerin dayanıklılığının artması
D) Ürünlerin kargo takibinin yapılması

- 10.



Babür Devleti'nde Şah Cihan tarafından eşi Ercümen Banu'nun ölümü üzerine bu eser yaptırılmıştır. Dört minareli olan bu eserin kubbesinin yerden yüksekliği 82 metredir. Yapımında Osmanlı Devleti'nden de mimarların katıldığı bu binanın yapımında zümrüt, yakut, pırlanta gibi değerli taşlar kullanılmıştır.

Turist rehberi Ahmet tarafından özellikleri verilen tarihi eser aşağıdakilerden hangisidir?

- | | |
|-------------------|-----------------|
| A) Keops Piramidi | B) Eyfel Kulesi |
| C) Tac Mahal | D) Çin Seddi |

11. Uluslararası ticarete taşıma maliyetinin düşük olması önemli bir unsurdur. Bunun için tek seferde çok fazla yük taşıyan ulaşım araçları tercih edilmektedir.

Buna göre ülkeler arasında yapılan ticarete ulaşım maliyetlerini azaltmak için aşağıdaki ulaşım yollarından hangisi tercih edilmelidir?

- | | |
|---------------|---------------|
| A) Hava yolu | B) Deniz yolu |
| C) Demir yolu | D) Kara yolu |

12. Aşağıdakilerden hangisi turizmin uluslararası ilişkilere katkılarının biri değildir?

- A) Turistik etkinliklerin yapıldığı yerlerde gıda fiyatlarının artması
B) Farklı ülke insanları arasında dostluklar kurulması
C) İnsanlar arası kültürel bağların kurulmasını
D) Dünyada barışın sağlanmasına katkı sunması



Küresel Bağlantılar - 2

1. Günümüzde iletişim teknolojisinin oldukça gelişmiş olması ticareti de kolaylaştırmıştır.

Aşağıdakilerden hangisi bu duruma örnek olarak gösterilebilir?

- A) İnternet üzerinden alışveriş yapılması
B) Demiryolu ağlarının artırılması
C) Boru hatları ile ülkeler arası taşımacılığın artması
D) Turizmin yeni iş olanakları sağlaması

2. Aşağıdakilerden hangisi Fransa'ya giden turistlerin görebileceği kültürel öğelerden biridir?



Pisa Kulesi



Piramitler



Truva Atı



Eyfel kulesi

3. İnsanlığın hem geçmişini hem de geleceği içerisine alan maddi ve manevi değerlerin bütününe adı verilir.

Yukarıdaki cümlede boş bırakılan yere aşağıda verilen ifadelerden hangisi getirilmelidir?

- A) Tarihi nesnelere
B) Doğal güzellikler
C) Millî değerler
D) Ortak miras

4. Aşağıdakilerden hangisi turizmin sosyal ve kültürel faydaları arasında gösterilemez?

- A) Milletler arasında dayanışma sağlanması
B) Devletler arasındaki işbirliği geliştirilmesi
C) Orman alanlarının yerleşime açılması
D) Kültürler arası etkileşim sağlanması

5. Trabzon'un Maçka ilçesinin Altındere Vadisine hâkim Karadağ eteklerinde Sarp bir kayalık üzerine kurulmuş olan, halk arasında Meryem Ana adı ile anılır.

Yukarıdaki boşluğa hangisi getirilmelidir?

- A) Kız Kulesi
B) Sümela Manastırı
C) Nemrut Heykelleri
D) Truva Atı

6. I. Toplumların birbirini yakından tanınması
II. Kültürler arası etkileşim meydana getirmesi
III. Uluslararası ticaretin artması

Yukarıda verilenlerden hangileri turizmin uluslararası ilişkilerdeki etkisine örnek gösterilebilir?

- A) Yalnız I.
B) Yalnız II.
C) I ve II.
D) I, II ve III.

Küresel Bağlantılar - 2

7.



Yukarıda Türk tarihinin en eski yazılı belgeleri olan Orhun Abideleri gösterilmiştir. Bu belgeler aşağıda verilen ülkelerin hangisinde bulunmaktadır?

- A) Azerbaycan B) Moğolistan
C) İran D) Türkmenistan

8. Ortak miras değerlerimizle ilgili verilen bilgilerden hangisi **yanlıştır**?

- A) Tarihi bir geçmişe sahiptir.
B) Ait olduğu millete aittir.
C) Yüzyıllar boyu süren birikimin sonucudur.
D) Korunmasında müzeler önemli bir yere sahiptir.

9. Aşağıda verilen kültürel öge ve bulunduğu il eşleştirmelerinden hangisi **yanlıştır**?

- | Kültürel Öge | Bulunduğu İl |
|-------------------|--------------|
| A) Galata Kulesi | Ankara |
| B) Yivli Minare | Antalya |
| C) Topkapı sarayı | İstanbul |
| D) Selimiye Camii | Edirne |

10. • Hattuşaş – Çorum
• Truva Antik Kenti – Çanakkale
• Nemrut Dağı – Adıyaman
• Selimiye Cami ve Külliyesi – Edirne

Ülkemizde bulunan bu tarihi eserler UNESCO tarafından dünya mirasları listesine alınmışlardır.

Bu eserlerin dünya mirası olarak görülmesinin nedenleri arasında aşağıdakilerden hangisinin etkisi yoktur?

- A) Eşsiz ve benzersiz eserler olmaları
B) Dünyanın sayılı doğal ve tarihi güzellikleri olmaları.
C) Ülkemizin farklı şehirlerinde yer almaları
D) İnsanlığın ortak değerleri sayılmaları

11. Aşağıda verilen kuruluşlardan hangisi dünya ortak mirasını korumak amacıyla kurulmuştur?

- A) LÖSEV B) NATO
C) UNESCO D) TEMA

12. Turizm; dinlenmek, eğlenmek, görmek ve tanımak gibi amaçlarla yapılan gezilerdir.

Aşağıdakilerden hangisi turizmin katkıları arasında gösterilemez?

- A) Üretim ve tüketimi artırır.
B) Ülkeye döviz girdisi sağlar.
C) Çevre kirliliğine sebep olur.
D) Farklı kültürlerin birbirini tanımalarını sağlar.



CEVAP ANAHTARI

Test 1	1. D	2. B	3. D	4. B	5. A	6. C	7. D	8. B	9. C	10. B	11. D	12. A
Test 2	1. A	2. C	3. D	4. C	5. B	6. C	7. B	8. B	9. A	10. B	11. D	12. A
Test 3	1. B	2. B	3. D	4. A	5. D	6. D	7. A	8. A	9. B	10. C	11. A	12. B
Test 4	1. C	2. A	3. B	4. A	5. A	6. C	7. C	8. A	9. C	10. D	11. B	12. C
Test 5	1. B	2. B	3. C	4. B	5. D	6. D	7. C	8. A	9. C	10. C	11. D	12. A
Test 6	1. C	2. B	3. D	4. C	5. B	6. B	7. D	8. D	9. B	10. C	11. D	12. A
Test 7	1. D	2. D	3. C	4. B	5. A	6. A	7. D	8. A	9. D	10. C	11. D	12. A
Test 8	1. D	2. C	3. B	4. D	5. D	6. A	7. C	8. C	9. D	10. B	11. D	12. A
Test 9	1. B	2. D	3. A	4. D	5. A	6. B	7. C	8. A	9. D	10. D	11. C	12. C
Test 10	1. A	2. D	3. C	4. B	5. A	6. D	7. A	8. D	9. A	10. D	11. C	12. B
Test 11	1. B	2. A	3. C	4. D	5. B	6. B	7. A	8. D	9. D	10. C	11. B	12. C
Test 12	1. A	2. B	3. C	4. C	5. D	6. A	7. A	8. C	9. B	10. D	11. D	12. C
Test 13	1. A	2. D	3. A	4. A	5. D	6. C	7. D	8. C	9. A	10. B	11. B	12. B
Test 14	1. C	2. D	3. B	4. B	5. B	6. D	7. C	8. B	9. A	10. B	11. C	12. A
Test 15	1. A	2. C	3. A	4. B	5. B	6. D	7. B	8. D	9. C	10. C	11. B	12. A
Test 16	1. A	2. D	3. D	4. C	5. B	6. D	7. B	8. B	9. A	10. C	11. C	12. C